

به نام خدا

Who Said Acupuncture is Very Easy

نمونه سوالات امتحان برد تخصصی طب سوزنی Class C simple questions

۱- چرا در اولین جلسه درمان با طب سوزنی نباید الکتروآکو پنکچر کرد

a- زیرا بیمار ممکن است بترسد

b- زیرا ما هنوز تولرانس و عکس العمل بیمار را نسبت به طب سوزنی ساده ارزیابی نکرده ایم.

c- زیرا ما هنوز از بیمار نپرسیده ایم که آیا Pace maker دارد یا نه .

d- زیرا ممکن است فرکانس بیمار را ناراحت کند .

۲- چرا ۲ قطب الکترو آکو پنکچر باید در یک طرف بدن باشند .

a- زیرا ممکن است اختلالات هدایتی عضلات قلب بوجود آید .

b- زیرا ممکن است اثرات الکتروآکو پنکچر موثر نباشد

c- زیرا ممکن است اثرات الکتروآکو پنکچر زیادتر از معمول باشد .

d- زیرا ممکن است بیمار به سسکه بیفته.

۳- چرا نباید در حالیکه دستگاه الکتروآکو پنکچر روشن است قطب ها را به سوزن وصل

کرد .

a- زیرا این کار باعث جرقه زدن میشود .

b- شوک ناگهانی بیمار را بشدت ناراحت میکند .

c- الکترو آکو پنکچر موثر نخواهد بود .

d- میتوان در حالیکه دستگاه الکترو و آکو پنکچر روشن و روی هر قدرت و فرکانس است

قطب ها را به سوزن ها وصل کرد .

۴- چرا نباید در الکترو آکوپنکچر از سوزن نقره ای استفاده کرد .

- a- سوزن نقره ای گران است .
- b- سوزن نقره ای باید در قطب منفی قرار گیرد .
- c- سوزن نقره ای شروع به الکترولیز اطراف خود کرده و رآکسیون سمی میدهد .
- d- سوزن نقره ای باید در قطب مثبت قرار گیرد.

۵- روی این مریدیان و این عنصر نباید الکتروآکوپنکچر کرد .

a- مریدیان کیسه صفرا و معده.

b-مریدیان مثانه و کبد.

c-مریدیان قلب و ریه.

d- مریدیان Du و نخاع

۶-در ماکسی بس شن کدام جمله غلط است

- a-ماکسی مریدیان را گرم و سرما را بیرون میکند
- b- ماکسی جریان QI و blood را به خوبی برقرار میسازد
- c- ماکسی باعث قطع جریان QI و blood در مریدیان میشود
- d- ماکسی باعث میگردد که yan قوی شده و از کلابس جلوگیری شود

۷- در این مورد ماکسی بس شن کنتراندیکه نیست

- a- اطراف چشم ها بعلت آسیب به بینائی
- b- صورت بعلت تشکیل اسکاروکلوئید
- c- Excess syndrome heat syndrome yin deficiency
- d- cold syndrome

۸- **Excess Dreaming** در خواب دیدن و رویا زیاد از حد کدام یک از ترکیبات

نقاط بکار برود.

$$Liv_3 - HT_7 - UB_{15} - a$$

$$ST_{36} - Ki_6 - Ki_3 - b$$

$$LU_7 - Liv_8 - si_3 - c$$

$$Lu_8 - Liv_{13} - SJ_3 - d$$

۹- آقائی با این علائم سرفه و خلط زرد، درد سینه، تب، لرز، سردرد، بارزبان زرد.

نبض تند بمدت دو روز که هم دچار دردشکم و یبوست شده طبق ترکیب نقاط طب سوزنی yuan

و Luo کدام ترکیب نقاط را باید سوزن زد.

$$sp_3 - sT_{40} - a$$

$$Liv_3 - cB_{37} - b$$

$$Lu_9 - Li_6 - c$$

$$HT_7 - Si_7 - d$$

۱۰- در بیماری ریه کدام **Back shu point** نقطه پشتی عضو ریه را انتخاب میکنید.

$$BL_{13} - a$$

$$BL_{14} - b$$

$$BL_{12} - c$$

$$BL_{15} - d$$

۱۱- بیماری بازخم معده، درد اپی گاستریک، استفراغ مواد اسیدی، Red tongue زبان قرمز wiry pulse نبض سیمی بر طبق ترکیب نقاط back shu و front mu کدام ترکیب را انتخاب میکنید .

$cv_{12} - BL_{21} - a$

$Liv_{14} - BL_{18} - b$

$cv_5 - BL_{22} - c$

$CB_{25} - BL_{23} - d$

۱۲- نقطه تحتانی Lower He sea point معده کدام است

$ST_{39} - a$

$ST_{37} - b$

$ST_{36} - c$

$ST_{30} - d$

۱۳- نقطه xi cleft point معده کدامست .

$ST_{34} - a$

$ST_{36} - b$

$ST_{35} - c$

$ST_{30} - d$

۱۴- نقطه مهم و موثر **QI** چی انرژی بیوالکتریک در بدن کدامست .

ST_{36} -a

Liv_3 -b

cv_{17} -c

Lu_9 -d

۱۵- برای **kidney QI deficiency** ما این نقاط را سوزن میزنیم BL_{23} - Re_4 - ki_3

این کار با کدامیک از متد زیر انجام میگردد

Reducing-a warming-b rein forcing-c clearing-d

۱۶- بر طبق تئوری **zhu** و **zi wu . liu** زمان کیسه صفرا مابین

a- ۵ تا ۷ شب است

b- ۷ تا ۹ شب است

c- ۱۱ تا ۱ نیمه شب است

d- ۱۱ تا ۱ بعد از ظهر است

۱۷- نقطه ورودی **QI** مریدیان کبد عبارتست از:

Liv_1 -a

Liv_3 -b

Liv_{14} -c

Liv_{13} -d

۱۸- نقطه خروجی QI مریدیان SJ یا Triple warmer عبارتست از:

$SJ_1 - TW_1 - a$

$SJ_5 - TW_5 - b$

$SJ_{17} - TW_{17} - c$

$SJ_{23} - TW_{23} - d$

۱۹- مریدیان BL در کجا با ki متصل میگردد.

$UB1 - a$

$UB67 - b$

$Ki_1 - c$

$Ki_{22} - d$

۲۰- زمان قلب در Liu zi wu و zhu ma بین

a- ۹ تا ۱۱ صبح

b- ۱۱ تا ۱ بعد از ظهر

c- ۱ تا ۳ بعد از ظهر

d- ۹ تا ۱۱ شب

۲۱- کاربرد سوزن زدن روی Du20 عبارتست از:

a- yang Qi نمیتواند بسر برسد

b- خون نمیتواند خوب سر را مشروب کند

c- yin Qi نمیتواند بسر برسد

d- wei Qi نمیتواند بسر برسد

۲۲- نقاطی که به دریای خون منسوبند عبارتند از:

$ST_{36} - ST_{30}$ -a

$ST_{37} - ST_{39}$ -b

ST_9 و CV_{17} -c

$GV_{16} - GV_{20}$ -d

۲۳- بیماریکه نمیتواند صحبت کند دوچار کمبود.

sea of water-a

sea of blood -b

sea of marrow-c

sea of Qi-d

۲۴- کدام نقطه در طول حاملگی کمتر اندیکه است برای سوزن زدن .

GV_{20} -a

GV_{26} -b

Li_4 -c

Li_{20} -d

۲۵- تقاطع مریدیان GB و SJ عبارتند از این دو نقطه

$si_3 - BL_{62} - a$

$sp4 - pc6 - -b$

$GB_{41} - SJ_5 - -c$

$LU7 - Ki6 - d$

۲۶- نقاط هم سطح در پشت در سطح T5 عبارتند از:

$BL41 - BL_{12} - a$

$BL13 - BL42 - b$

$BL_{14} - BL43 - c$

$BL15 - BL44 - d$

۲۷- نام اکستراپوینتی در ورتکس سرشامل ۵ نقطه گروهی هستند.

$si\ feng - a$

$yin\ Tang - b$

$si\ shen\ cong - c$

$Ding\ chuan - d$

۲۸- نقاطی که هم سطح هستند با **Renll** اما واقع در پشت بدن هستند عبارتند از

BL18 – BL47 -a

BL19 – BL48 -b

BL₂₀ – BL49 -c

BL21 – BL50 -d

۲۹- نقاط هم سطح **T9** عبارتند از

BL17 – BL46 -a

BL18 – BL47 -b

BL19 – BL48 -c

BL20 – BL49 -d

۳۰- کدام مریدیان ۲ چون در دو طرف *Du20* قرار دارد

BL-a

ST-b

SP-c

Ki-d

۳۱- کدام نقطه (اکسترا) برای درمان آپاندیست ممکن است بکار رود (اما توصیه نمیشود)

si feng -a

si shen cong -b

Lan wei xue -c

Bafeng-d

۳۲- در فرکوئنسی (تکراردار) urinary frequency که عامل آن Damp cold

میباشد درمان عبارتست از سوزن زدن روی

sp9 و sp6 با اضافه ST 28- Ren4-a و سپس ماکسی بس شن روی آنها با اضافه

sp9 و sp6 با اضافه ST 21- Ren12-b و سپس ماکسی بس شن روی آنها با اضافه

sp9 و sp6 با اضافه ST 36- Ren22-c و سپس ماکسی بس شن روی آنها با اضافه

sp9 و sp6 با اضافه ST 36- Ren14-d و سپس ماکسی بس شن روی آنها با اضافه

۳۳- کدام عصب نیم چون زیر نقطه GB34 قرار دارد و باید مواظب بود.

a- عصب فمررال

b- عصب پرونه

c- عصب سیرکمفلکس پوستر یور

d- عصب سطحی خارجی زانو

۳۴- کدامیک از جملات زیر غلط است.

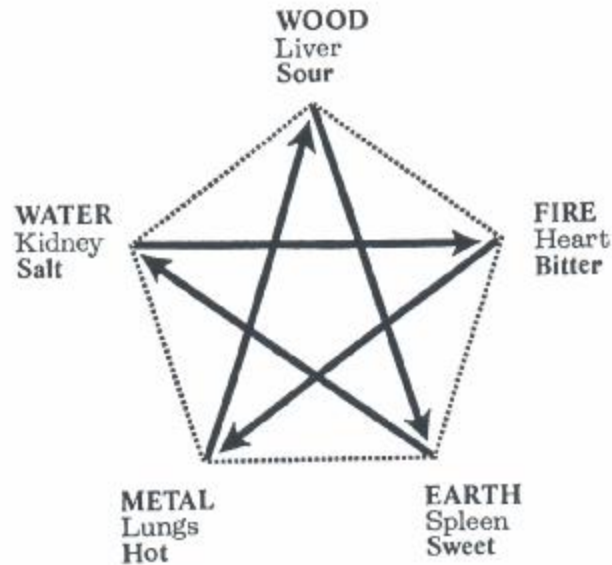
a- اعضای fu تو خالی در صورتیکه cold در آنها نفوذ نمایند محتویات خود را آبکی کرده و عمل دفع انجام میدهند مثل اسهال که عامل آن cold باشد.

b- اعضای fu تو خالی در صورتیکه heat در آنها نفوذ نمایند محتویات خود را سفت کرده و در خود نگه میدارند مثل یبوست.

c- اعضای zang توپر در صورتیکه damp در آنها نفوذ یابد محتویات خود را سفت کرده و در خود نگه میدارند.

d- اعضای fu تو خالی در صورتیکه damp heat در آنها نفوذ یابد محتویات خود را دائما تخلیه می نمایند مثل عفونت باکتریال مثانه که نشانه آن سوزش و تکررادرار است.

۳۵- در دایره Element 5 کدام جمله غلط



است.

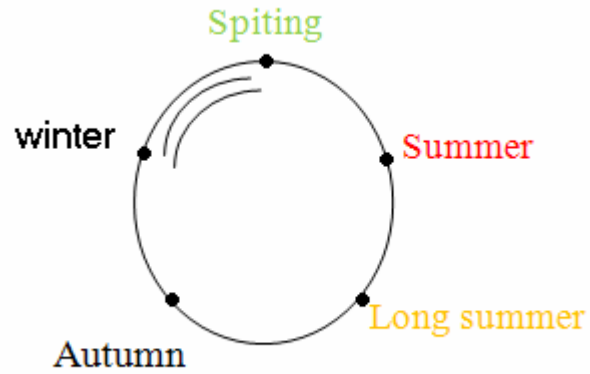
a- مزه شور در ki است

b- مزه شیرین در sp است

c- مزه ترش در Lu است

d- مزه تلخ در Ht است

۳۶- در دایره 5Element کدام جمله غلط است



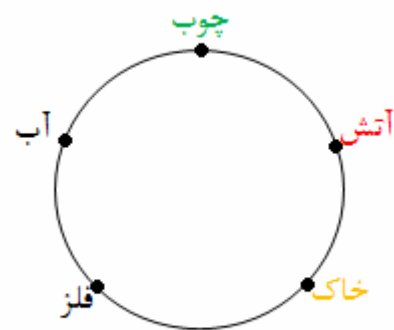
a- تابستان و قلب

b- زمستان و کلیه

c- بهار و کبد

d- پائیز و معده

۳۷- در دایره 5Element کدام جمله غلط است.



a- چوب wood فرزند آب water است

b- آتش fire فرزند چوب wood است

c- فلز metal فرزند خاک Earth است

d- چوب wood مادر آب water است

۳۸- مصرف ترشی فراوان طبق قوانین 5Element بکدام عضو فشار می‌آورد.

a- کبد

b- کلیه

c- ریه

d- معده

۳۹- مصرف بیش از حد غذای تند بکدام عضو طبق قوانین 5Element فشار می‌آورد.

a- کبد

b- کلیه

c- ریه

d- قلب

۴۰- در یک عفونت مزمن که همه نوع آنتی بیوتیکی روی آن با شکست مواجهه شده

برای برانگیختن سیستم دفاعی بدن کدام نقاط را سوزن می‌زنید

$Si\ 6 - si_3 - Liv_3 - ST\ 34 - a$

$Li\ 11 - GV\ 14 - Li_4 - ST_{36} - b$

$Si_{17} - GB\ 34 - Li\ 20 - st\ 35 - c$

$Si\ 6 - bl\ 23 - IIV\ 6 - ST\ 30 - d$

۴۱- در درمان اعتیاد با مواد مخدر سوزنها در لاله گوش ، هر روز زده میشود این نقاط

عبارتند از:

a- شن من - $LU - Ki$ و $Liv - HT$ - سمپاتیک \sum

b- شن من - $Lu - ki$ و $Liv - HT$ معده

c- شن من - $Lu - ki$ و $Liv - HT$ تراگوس

d- شن من - $Lu - ki$ و $Liv - HT$ آنتی تراگوس

۴۲- کدامیک از این ترکیب نقاط در درمان بیماریهای زنان بسیار موثر است.

$Liv3 - sp10 - a$

$Sp4 - Re n12 - b$

$BL2 - Re n22 - c$

$GB14 - SP21 - d$

۴۳- کدامیک از موارد زیر در تقسیم بندی منوپاز (یا نئسگی) نیست.

kidney yan deficiency-a

kidney yin deficiency -b

kidney yin و yan deficiency c

kidney Qi deficiency -d

۴۴- در **Acute Renal failure** کدامیک از درمانهای طب سوزنی موثر است.

a- $Ren4 - BL23 - DU4 - SP6$ + ماکسی بس

b- $Ren22 - ST36 - Ren12 - Ren13$ + ماکسی بس

c- $Ren21 - ST35 - Du16 - ST_1$ + ماکسی بس

d- $Ren21 - ST35 - Du16 - ST_1$ بدون ماکسی بس

۴۵- کدامیک از نقاط زیر برای ورم دور چشمها و ورم کوده گذار پاها استفاده می شود.

a- $Ren4 - Ki6 - Ki3 - BL39 - Sp6$ و ماکسی بس

b- $Ren1 - ki_{10} - ki_1 - BL_1, SP_{10}$ و ماکسی بس

c- $Ren22 - ki_1 - ki_{10} - BL67, SP_1$ و ماکسی بس

d- هیچکدام

۴۶- کمر دردی که عامل پاتوژن آن کمپلکس **Damp Cold** باشد با کدام ترکیب درمان

می گردد.

a- $BL62 - Du1 - BL20 - ki_{10}$ و بشدت ماکسی بس و سپس بادکش

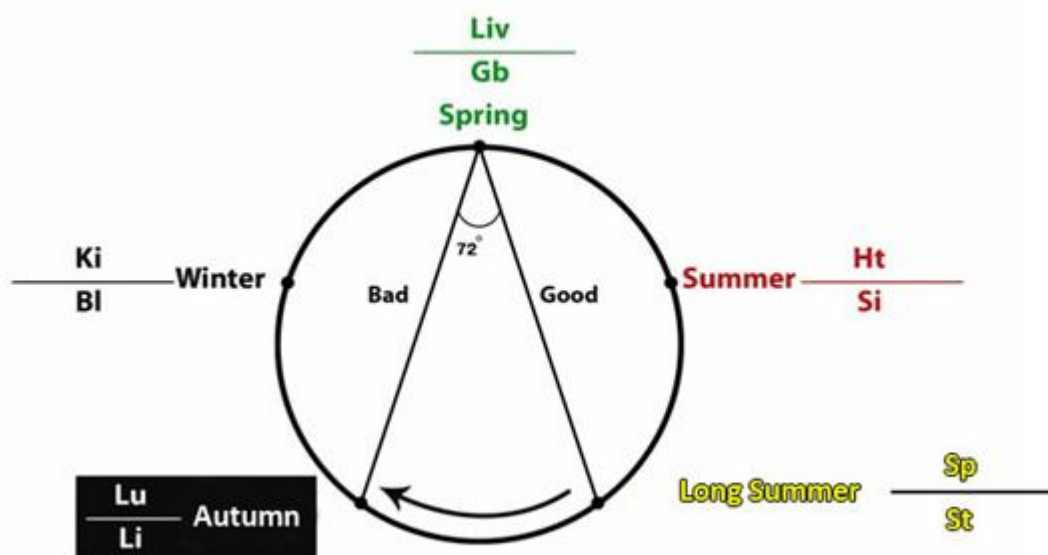
b- $BL40 - Du4 - St40 - BL23 - Ki6$ و بشدت ماکسی بس و سپس بادکش

c- $Bl62 - Du1 - Bl20 - Ki10$ بدون ماکسی بس

d- $Bl62 - Du1 - Bl20 - Ki10$ بدون بادکش کردن

Single organ system failure

۴۷- زاویه ۷۲ درجه تنا را در دایره 5Element بچرخانید و باین سئوالات پاسخ دهید.



a- در کدام فصل وضعیت بیمار مبتلا به بیماری کبدی خوب است طوری که تصور می گردد بهبود

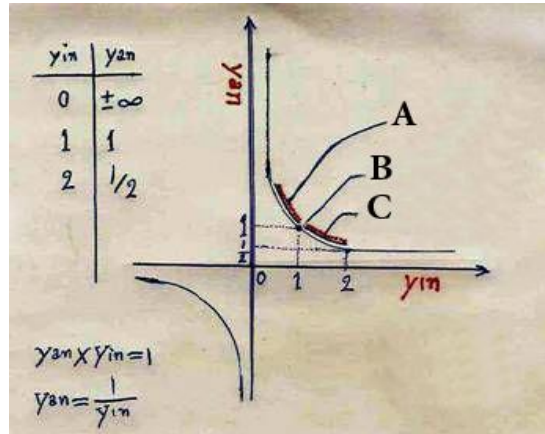
یافته کدام فصل ج.....

b- در کدام فصل وضعیت بیمار کبدی بد است طوری که ممکن است فوت نماید ج.....

c- فصل درمان بیماریهای کبد کدام است ج.....

۴۸- در منحنی زیر که بر حسب کمیت y_{in} و y_{an} رسم شده و معادله آن $y_{in} \times y_{an} = 1$

است. $y_{an} = \frac{1}{y_{in}}$



a- y_{in} deficiency با علائم گر گرفتگی، بی خوابی، عصبیت، یبوست کدام نقطه است.

ج.....

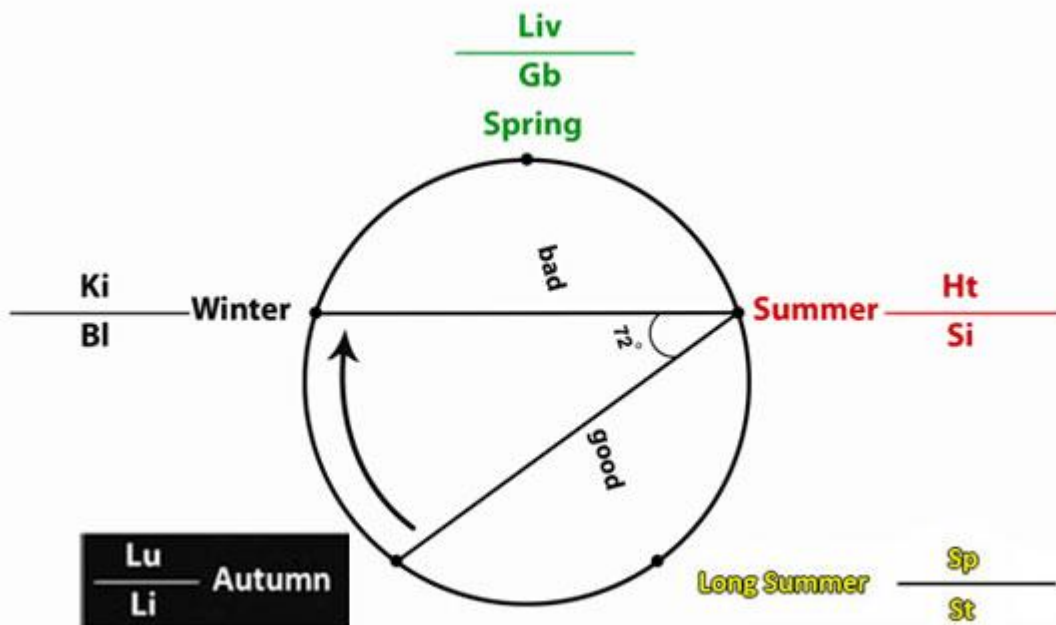
b- y_{an} deficiency با علائم لرز و سرما، دست و پای سرد، خواب آلودگی کدام نقطه است.

ج.....

c- کدام یک از نقاط A و B و C نشانه سلامت و تعادل میباشد.

ج.....

۴۹- زاویه ۷۲ درجه تتارا در دایره 5Element بچرخانید و باین سئوالات پاسخ دهید.



a- در بیماری قلبی در کدام فصل وضعیت بیمار بسیار خوب میگردد طوریکه که تصور میشود بهبود

یافته است. Heart = Ht

ج

b- در بیماری قلبی در کدام فصل وضعیت بیمار بد میگردد طوریکه ممکن است فوت نماید.

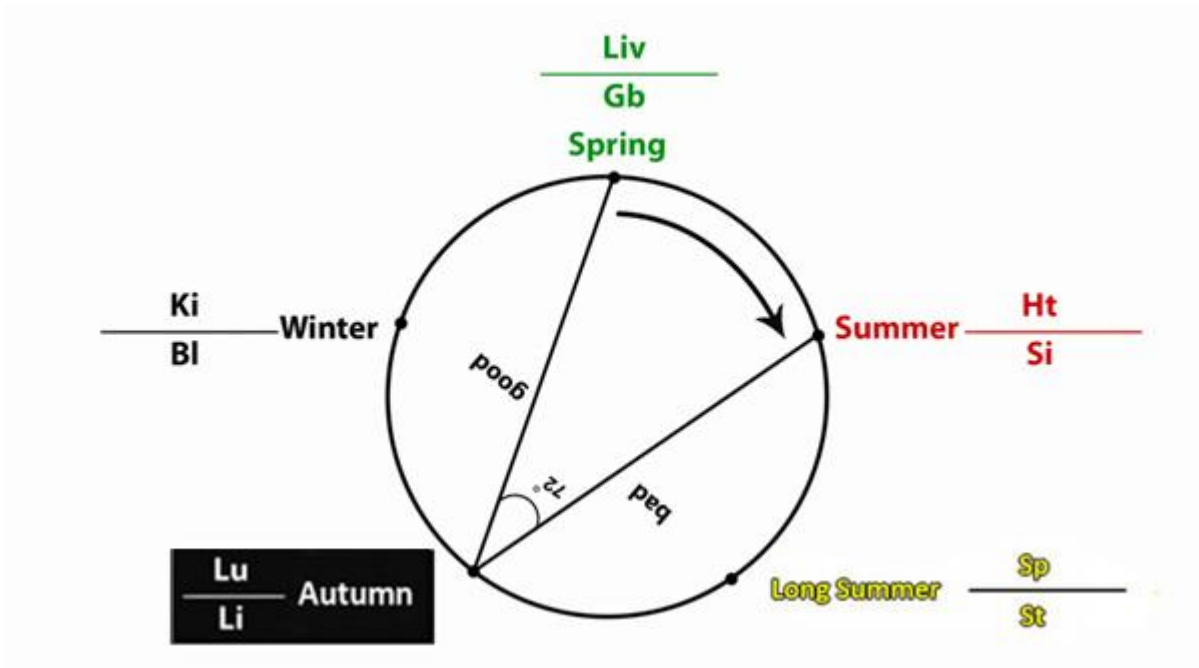
ج

c- فصل درمان بیمار قلبی کدام فصل است.

ج

-۵۰

a- در بیمار ریوی در کدام فصل وضعیت بیمار بسیار خوب می شود. ج.....



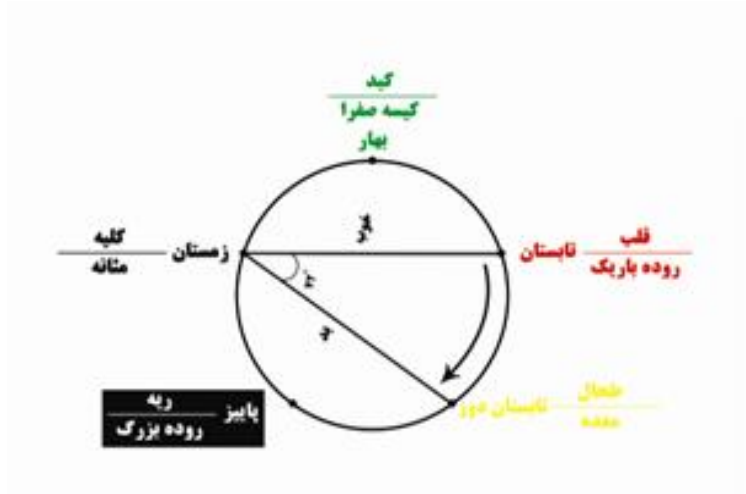
Lung= Lu

b- در بیمار ریوی در کدام فصل وضعیت بیمار بد می شود. ج.....

c- فصل درمان بیمار ریوی کدام فصل است. ج.....

a- در بیمار کلیوی در کدام فصل وضعیت بیمار بسیار خوب می شود.

ج.....



Kidney= Ki

b- در بیمار کلیوی در کدام فصل وضعیت بیمار بسیار بد می شود. ج.....

c- فصل درمان بیماریهای کلیوی کدام است. ج.....

۵۲- در روماتیسم حاد مفصلی ابتدا کورتن را بتدریج کم کرده و بجای آن آنتی

انفلاما تورهای غیر استیروئیدی میدهیم و سپس این نقاط را طب سوزنی می کنیم.

a- $Du1 - BL20 - SP1 - SJ3 - BL14 - SJ4 - Si3$ با ماکسی بس

b- $Du4 - BL23 - SP6 - Liv3 - Gv14 - Li4 - ST36$ با ماکسی بس

c- $Du4 - BL23 - SP6 - Liv3 - Gv14 - Li4 - ST36$ بدون ماکسی بس

d- $Du3 - BL18 - SP3 - Liv1 - GB44 - Li17 - Si1$ بدون ماکسی بس

۵۳- یک زانوی دردناک، متورم، قرمز که مایع در آن جمع شده و عامل پاتوژن آن

Damp heat است با کدام ترکیب نقاط درمان می کنند؟

a- دو چشم زانو + (Gv14 - Li 4 - ST 36 - Gb34) بدون ماکسی بس

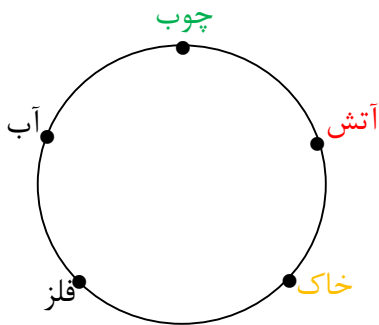
b- دو چشم زانو + (Gv14 - Li 4 - ST 36 - Gb34) با ماکسی بس

c- (GB14 - Si 3 - ST 1 - Gb 20 - BL 67) با ماکسی بس

d- (GB14 - Si 3 - ST 1 - Gb 20 - BL 61) بدون ماکسی بس

۵۴- در روماتوئید آرترایتیس درد و تورم هر روز یک فصل را فرامیگیرد کدامیک از

عوامل پاتوژن باعث این جابجائی درد و تورم می گردد.



a- Dryness خشکی

b- Cold سرما

c- Heat گرما

d- Wind باد

۵۵- عامل پاتوژن فصلی در بهار عبارتست از:

a- Dryness خشکی

b- Heat گرما

c- Cold سرما

d- Wind باد

ساعت بیولوژیک بدن

۵۶- طب سوزنی برای درمان بیماری عضوی کلیه در چه ساعاتی از روز و شب بسیار

مؤثرتر است.

ج

۵۷- طب سوزنی برای درمان بیماری عضوی قلب در چه ساعاتی از شب و روز بسیار

مؤثرتر است؟

ج

۵۸- طب سوزنی برای درمان بیماری عضوی ریوی در چه ساعاتی از شب یا روز مؤثرتر

است؟

ج

۵۹- طب سوزنی برای درمان بیماری عضوی معده در چه ساعاتی از شب یا روز مؤثرتر

است؟

ج

۶۰- طب سوزنی برای درمان بیماری عضوی روده بزرگ در چه ساعاتی از شب یا روز

مؤثرتر است؟

ج

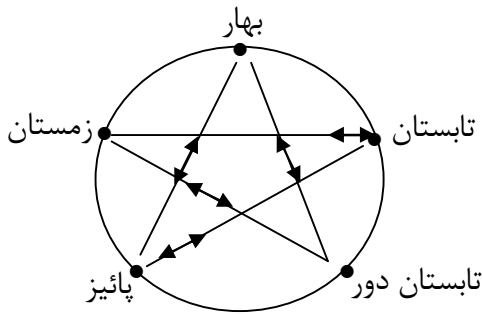
۶۱- طب سوزنی برای درمان بیماری عضوی مثانه در چه ساعاتی از شب یا روز مؤثرتر

است؟

ج

۶۲- موذی ترین عامل پاتوزن فصلی را که همواره با ۴ عامل پاتوزن دیگر همدست

می شود و خود به تنهایی جلو نمی آید کدام است.



a- Heat گرما

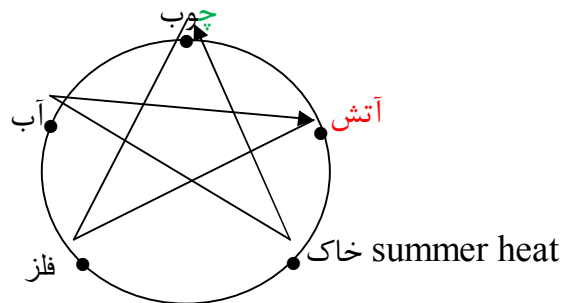
b- Cold سرما

c- Wind باد

d- Dryness خشکی

۶۳- عوامل پاتوزن فصلی را به ترتیب در ۵ عنوان دایره بجای خود بگذارید.

summer heat بعنوان مثال



سوالات مربوط Life style

۶۴- مردی ۳۰ ساله می گوید که درد گردن وی بهبود یافتنی نیست این شخص یکبار شب و یکبار صبح دوش آب سرد می گیرد، کدامیک از عوامل پاتوژن مانع بهبودی وی است؟

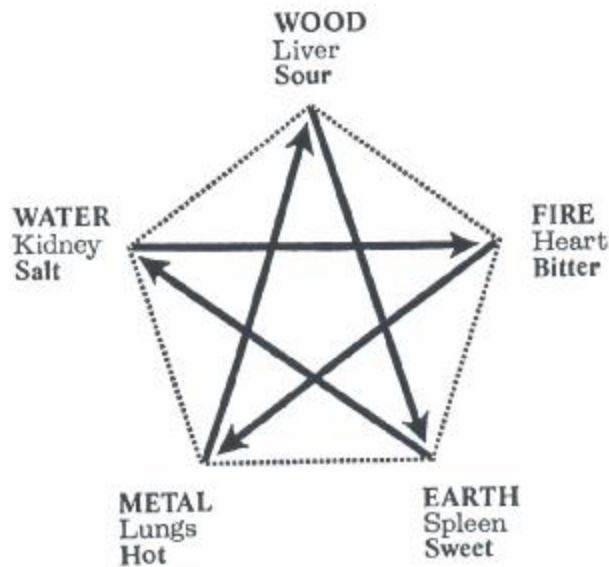
Damp heat -a

Damp cold -b

Wind cold -c

Heat cold-d

۶۵- خانمی ۵۰ ساله دائماً دچار کمر درد، دست درد، گردن درد و پا درد است، مشکلات وی در کدام قسمت از این شکل قرار دارد؟



a- بین Wood و Fire

b- بین Fire و Erath

c- بین Wood و Water

d- بین Water و Metal

Food cure tests

Food Treatment tests

درمان با غذا

۶۶- مردی ۴۰ ساله بسیار شیرینی دوست دارد و بشدت شیرینی مصرف می کند این

شخص کدام یک از اورگان های داخلی بدن خود را تحت فشار گذاشته؟



a - قلب

b - کلیه

c - کبد

d - طحال

۶۷- شخصی با هر وعده غذایی خود مقدار زیادی نمک طعام مصرف می نماید این شخص

کدامیک از اورگان های بدن خود را تحت فشار گذاشته؟



a - قلب

b - کلیه

c - کبد

d - طحال

آدرس وب سایتها

دکتر ناصر تابش متخصص جراحی عمومی

فوق تخصص طب سوزنی

درمان بیماریهای مزمن و صعب‌العلاج، عوارض بعد از اعمال جراحی
فارغ التحصیل دوره چهارساله Chinese Medicine از کانادا BC ونکوور

UBC-University of British Columbia school of Chinese Medicine

www.systemic-infections.com

www.surgical-complication.com

اهواز - خیابان نادری، بین حافظ و فردوسی، مجتمع پزشکی بزرگ نادری،

طبقه پنجم، واحد ۱۳۲

برای دریافت کلید و جواب سئوالات و بحث در متن سئوالات

(عصر) تماس بگیرید تلفن : ۲۲۳۱۲۷۲ - ۰۶۱۱